

En cas de besoin, vous pouvez me contacter à l'adresse suivante : [paulineblais28@gmail.com](mailto:paulineblais28@gmail.com)  
Des informations complémentaires sont disponibles sur le site internet de l'école, rubrique « continuité pédagogique » : [http://lesclouzeaux-saintemarie.fr/?page\\_id=3987](http://lesclouzeaux-saintemarie.fr/?page_id=3987)

**Lundi 30 mars**

### **Rituels :**

Dans le cahier du jour :

Monday 30 March

Écriture

Elle entendit de drôles de craquements tout près d'elle. Elle se mit à courir, mais les bruits se rapprochèrent. Il faisait sombre, elle ne voyait pas les pierres sur le chemin et buta contre l'une d'elles. Elle tomba de tout son long. Terrifiée, elle vit une immense silhouette se précipiter sur elle. Lorsque l'animal fut tout près, Charlotte poussa un cri de surprise : c'était Chien Bleu, qui l'avait suivie à la trace et retrouvée dans la forêt ! Elle l'enlaga de toutes ses forces.

### **Français :**

Cahier de recherche → Dictée : un adulte te dicte 10 mots de la liste n°18 puis tu vérifies l'orthographe (corrige tes éventuelles erreurs au stylo vert)

Grammaire : Relire le texte 15 « enquête au sommet » et réponds aux questions de compréhension de la page de droite. Attention, tu réponds **au crayon de bois** et par des phrases.

Va sur le site de l'école et écoute les enregistrements. Tu vas devoir faire des consignes que j'énonce. Attention écoute la vidéo 1, tu fais les exercices puis ensuite (et pas avant) tu écoutes la vidéo 2 ainsi de suite.

Projet d'écriture → Tape sur l'ordinateur tes textes des illustrations 7, 8, 9 et 10 (ils sont dans ton cahier de recherche) puis envoie-moi tes textes à mon adresse mail : [paulineblais28@gmail.com](mailto:paulineblais28@gmail.com) .

### **Maths :**

Fais ton évaluation de numération de la période 4.

Tu peux aller chercher la correction sur le site de l'école. Corrige-toi au stylo vert et envoie-moi cette évaluation à mon adresse mail : [paulineblais28@gmail.com](mailto:paulineblais28@gmail.com)

**Leçons pour le lundi 6 avril** : lire le chapitre 10 de Harry Potter

Apprendre les leçons de grammaire sur l'adjectif qualificatif et les compléments de phrase → évaluation

**Mardi 31 mars**

### **Rituels :**

Dans le cahier du jour :

Tuesday 31 March

## Orthographe

Écris les lettres finales muettes.

La chaudière nous permet de vivre bien au chau... .

Les climatologues étudient le clima... .

À la loterie, j'ai gagné le gros la... .

Felicia est adroite, mais moi je suis maladroi... .

Un ventilateur produit du ven... artificiellement.

### **Français :**

Cahier de recherche → Dictée : un adulte te dicte 10 mots différents ou non de la veille puis tu vérifies l'orthographe (corrige tes erreurs éventuelles au stylo vert)

Grammaire : Attention dans ma vidéo je parle du cours de Grammaire :  
NE PAS LE FAIRE IL EST REPORTE **A JEUDI** !

Lecture → Tu avais comme leçon pour aujourd'hui, de remplir la fiche sur le chapitre 8, tu peux regarder la correction et te corriger **au stylo vert**.

Écoute le chapitre 9 (tu trouveras l'enregistrement sur le site de l'école) : écoute-le bien attentivement. Ensuite, tu dois répondre aux questions du chapitre 9 (dans le panda). Tu peux ensuite te corriger **au stylo vert**.

## Chapitre 8 : Le maître des potions

### Entoure la bonne réponse

1- Combien y a-t-il d'escaliers à Poudlard ?

a) 142

b) 242

c) 342

2 – Qui n'accueille pas bien les nouveaux élèves en leur lançant des craies et en leur tirant les tapis ?

a) Peeves l'esprit frappeur

b) Quasi-sans-tête

c) Rusard

3 – Comment s'appelle la chatte de Rusard le concierge ?

a) Miss Teigne

b) Miss Tinguette

c) Miss Peigne

4 – Quels sont les cours les plus ennuyeux ?

a) ceux sur les plantes

b) ceux de l'histoire de la magie

c) ceux contre les forces du mal

5 – Qu'est-ce qui pousse sur le corps de Neville ?

a) des boutons violets

b) des champignons

c) des furoncles

6 – Par qui Harry est-il accueilli chez Hagrid ?

a) Peeves, le fantôme

b) Crockdur le chien

c) Miss Teigne

### Complète le tableau pour chacun des élèves cités ci-dessous

Professeur de ...	s'appelle professeur ...
Botanique (l'étude des plantes)	Quirrell
Métamorphose	Rogue
Défense contre les forces du mal	Mc Gonagall
Histoire de la magie	Chourave
Potions magiques	Binns (c'est un fantôme)

### Ecris la description de Crockdur

C'est un énorme molosse noir, il est gentil ●



## Chapitre 9 : Duel à Minuit

### Résume ce chapitre.

Harry apprend que les cours **de vol sur balai** seraient communs **avec les Serpentard**.

Harry n'aime pas Drago Malefoy qui parle sans arrêt de balais volant et **se vante tout le temps**. Neville **en revanche n'est jamais monté sur un balai**.

Hermione veut **leur donner des conseils qu'elle a trouvés dans un livre intitulé *Le Quidditch à travers les âges***.

Neville reçoit un **Rapeltout** qui sert à **se souvenir de ce qu'on a oublié de faire**.

Mme **Bibine** leur apprend à voler sur un balai. Ils doivent **frapper fort par terre** pour décoller. Pour Neville c'est la catastrophe et il se casse **le poignet**. Mme **Bibine** l'emmene à **l'infirmerie** et leur dit **de laisser leur balai par terre**. Mais Drago Malefoy défie Harry et ils **s'envolent**. Quand le professeur Mac Gonagall le voit, elle **n'en croit pas ses yeux**.

Harry devient alors **le nouvel attrapeur de l'équipe de Quidditch de Gryffondor**. Le soir Malefoy lui lance **un duel de sorciers**. Harry, Ron et Hermione s'y rendent à l'heure mais **pas Malefoy, il lui a tendu un piège**. Pour ne pas se faire prendre par Rusard, ils se réfugient dans une pièce où il y a **un énorme monstre à trois têtes**. Terrifiés, il partent en courant et reviennent dans la **salle commune**.

### Maths :

Entraîne-toi !

Fais les séries d'exercices interactifs sur les nombres décimaux disponibles à l'adresse suivante : <https://ressources.sesamath.net/matoumatheux/www/num/decimaux/CM2/exemplesCM.htm>

Tu n'es pas obligé(e) de tout faire ! Amuse-toi !

[Les pièces de monnaie](#)

[Les pièces et les billets](#)

[Faire l'appoint](#)

[Le verre mesureur](#)

[La balance](#)

[Les cadrans](#)

[Les bouteilles de champagne](#)

**Leçons pour le mardi 7 avril :** répondre aux questions chapitre 10 de Harry Potter



## Français :

Conjugaison : Fais ton évaluation de conjugaison sur l'imparfait.

Tu peux aller chercher la correction sur le site de l'école. Corrige-toi au stylo vert et envoie-moi cette évaluation à mon adresse mail : [paulineblais28@gmail.com](mailto:paulineblais28@gmail.com)

Grammaire : Cours en ligne

Va sur le site de l'école et écoute les enregistrements. Tu vas devoir faire des consignes que j'énonce. Attention écoute la vidéo 1, tu fais les exercices puis ensuite (et pas avant) tu écoutes la vidéo 2 ainsi de suite.

## Maths :

Dans ton Panda réponds **au crayon de bois** aux énigmes suivantes (tu peux t'aider de l'ardoise). N'oublie pas, je veux le calcul + la phrase réponse.



### La boîte à énigmes ★★ ★

**8**



Cette championne de saut en longueur a établi son premier record à 5m63. Puis l'année suivante, elle a amélioré son record de 1 cm. Puis l'année suivante, de 2 cm. Puis la troisième année, de 3 cm...Ainsi de suite pendant 11 ans.

**Quel est son record maintenant ?**



### La boîte à énigmes ★★ ★

**9**




Si je tourne l'engrenage dans le sens de la flèche, dans quel sens va tourner l'engrenage vert ?



## La boîte à énigmes ★★★

# 24



Voici la température de ce matin.  
Demain la température va baisser de 9°. Puis le jour suivant, elle remontera de 2°.  
Quelle température fera-t-il alors ?



## La boîte à énigmes ★★★

# 25



Le train est constitué de 13 wagons comptant chacun 88 places assises.  
Combien de personnes peut emmener ce train au maximum ?

### Histoire des arts :

Pas de nouvelle œuvre car il n'y pas de dictée la semaine **avant** les vacances. Dans ton porte-vues, tu avais une fiche sur « la grande pyramide dite pyramide de Kheops ». Tu gardes la feuille précieusement ainsi que les mots de dictée (liste n°19) + la leçon 019.

Corrige les énigmes au **stylo vert**.

#### Énigme 8 :


$1+2+3+4+5+6+7+8+9+10+11 = 66$  cm de plus en 11 ans.

$5\text{m et }63\text{cm} + 66\text{cm} = 6\text{ m et }29\text{ cm}$

Son record est de 6m et 29 cm.

#### Énigme 9 :

L'engrenage vert tourne dans le sens inverse des aiguilles d'une montre.



**Énigme 24 :**

25 °c sur le thermomètre.

$$25 - 9 = 16$$

$$16 + 2 = 18 \text{ °c}$$

Il fera 18°.

**Énigme 25 :**

$$13 \times 88 = 1\,144.$$

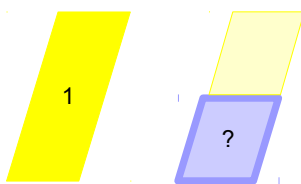
Le train peut emmener, au maximum, 1 144 personnes.

**EPS :** Demande à toute ta famille de faire un épervier avec toi.

**Leçon pour le jeudi 9 avril :** relis ton carnet de Vergnaud jusqu'à la catégorie la catégorie **N fois moins**

**N fois moins**

? = Recherche du total



Léa a 18 images. Sa copine Lisa en a 2 fois moins qu'elle.

Combien Lisa a-t-elle d'images ?

**Vendredi 3 avril**

**Rituels :**

Un adulte t'interroge sur 15 calculs (toutes les tables de multiplication) au hasard.

Dans le cahier du jour :

L'enregistrement de la dictée bilan est à aller chercher sur le site de l'école (La liberté guidant le peuple)

Écoute la dictée bilan autant de fois que besoin. N'oublie pas de te relire avec la fiche de relecture ! Puis va chercher la correction sur le site de l'école. Corrige-toi **au stylo vert**. N'oublie pas de m'envoyer ta dictée pour que tu puisses compléter ton graphique.

*Friday 3<sup>rd</sup> April*

*Dictée bilan*

**SAUTE DEUX LIGNES !**

**Français :**

Fais ton évaluation de vocabulaire sur le champ lexical.

Tu peux aller chercher la correction sur le site de l'école. Corrige-toi au stylo vert et envoie-moi cette évaluation.

**Maths :**

Grandeurs et mesures → dans ton panda complète la fiche : les masses → problèmes



Tu pourras aller chercher la correction sur le site de l'école et te corriger au stylo vert.

## Géographie :

Sur une feuille de classeur réponds aux questions du document : 4 : Où les hommes installent-ils leurs activités en ville ?

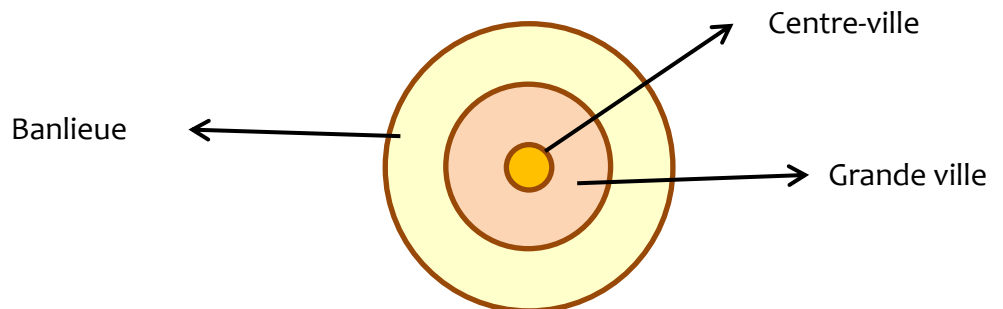
Sur la feuille de classeur « Se loger, travailler, se cultiver, avoir des loisirs dans les espaces urbains » recopie la leçon :

Où les hommes installent-ils leurs activités en ville ?

Le centre-ville est généralement la partie la plus ancienne de la ville (le quartier historique) et il devient parfois un lieu touristique. On y trouve des logements, des petits commerces (restaurant, librairie...) et quelques équipements de culture, de loisirs et de santé (musée, médiathèque, salle de spectacle, hôpital...).

Dans les autres quartiers de la ville, on trouve surtout des logements (immeubles et maisons plus récents), des bureaux, des zones d'activités (usines et centres commerciaux) et des équipements récents qui nécessitent beaucoup d'espace (stade, maison de retraite...).

Comme les grandes villes sont de plus en plus construites, les activités s'étendent dans les communes de la banlieue, au-delà des limites de la ville.



Bon week-end !